

Zadania

1. Czy boki trójkąta mogą mieć długości?

a) 2,4cm 4,6cm 7cm

b) 3,8m 5m 6m


c) 9,5dm 6,4dm 1,7dm

2. Czy kąty trójkąta mogą mieć miary?

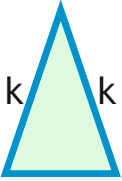
a) 60° 30° 90°

b) 15° 75° 80°

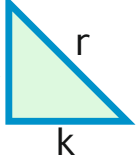
c) 127° 19° 34°



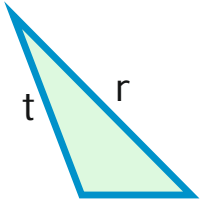
3. Połącz trójkąt z jego nazwą.



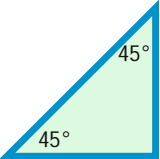
trójkąt
równoboczny

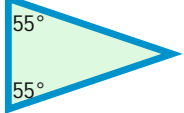


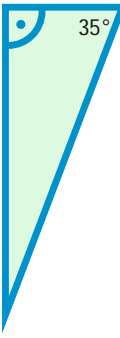
trójkąt
równoramienny

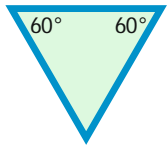


trójkąt
różnoboczny









4. Jeden kąt trójkąta równa się 62° ,
drugi jest o 13° **wiekszy**.
Ile stopni ma trzeci kąt trójkąta?

